

Polska Bolesława Chrobrego

- 1 Podkreśl właściwe dokończenie zdania.

Przydomek Bolesława Chrobrego oznacza inaczej

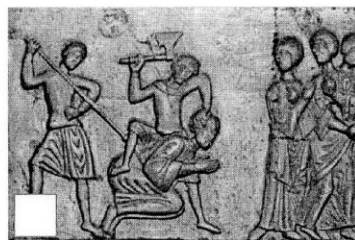

A „hojny”.

B „mądry”.

C „pobożny”.

D „waleczny”.

- 2 Przyjrzyj się fragmentom słynnych Drzwi Gnieźnieńskich. Następnie wykonaj polecenia.



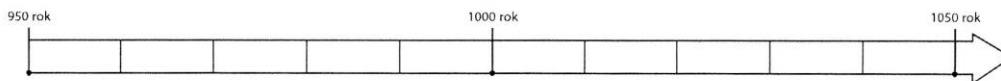
Praca z ilustracją

- a) Zapisz pod każdą z ilustracji właściwy tytuł z ramki. Jeden z nich jest niepotrzebny.

Chrzest Prusów, Przybycie do Prusów, Przybycie cesarza niemieckiego do Gniezna, Męczeńska śmierć, Wykupienie zwłok biskupa Wojciecha

- b) Uporządkuj przedstawione wydarzenia w kolejności chronologicznej. W tym celu wpisz w kratki cyfry od 1 do 4.

- 3 Przyjrzyj się zamieszczonej osi czasu. Następnie wykonaj polecenia.



Praca z osią czasu

a) Zaznacz na osi czasu datę zjazdu gnieźnieńskiego.

b) Uzupełnij zdanie.

Zjazd gnieźnieński odbył się w _____ połowie _____ wieku.

- 4 Przeczytaj fragment niemieckiej Kroniki Thietmara [czytaj: titmara] z XI wieku. Następnie odpowiedz na pytania.



Tekst źródłowy

Kronika Thietmara

Widząc z daleka miasto upragnione szedł doń pobożnie bosymi stopami, a przyjęty z czcią niezwykłą przez biskupa [...], wprowadzony został do kościoła, błagając zlanymi łzami wstawiennictwa świętego męczennika dla pozyskania sobie łaski Chrystusowej. I niezwłocznie ustanowił tam arcybiskupstwo, jak sądzę: prawnie [...] Archidiecezję¹ tę powierzył bratu wspomnianego męczennika, Radzymowi, poddając mu Rajnberna, biskupa katedry kołobrzeskiej, Poppona krakowskiego, Jana Wrocławskiego, wyłączywszy Ungera poznańskiego, a sporządziwszy tamże ołtarz, złożył na nim z niezmierną czcią święte relikwie.

¹ Archidiecezja – arcybiskupstwo lub obszar jemu podległy.

Praca z tekstem źródłowym

a) Jakiego wydarzenia dotyczy opis kronikarza?

b) Komu podlegały biskupstwa w Kołobrzegu, Krakowie i we Wrocławiu?

★ c) W którym fragmencie swojej relacji kronikarz dokonał przekłamania? Uzasadnij swoją odpowiedź.

- 5 Przyjrzyj się portretowi Bolesława Chrobrego. Następnie wykonaj polecenia.



Praca z ilustracją

a) Napisz, jakie oznaki władzy Bolesława Chrobrego zostały ukazane na ilustracji.

b) Zapisz, kiedy władca Polski uzyskał każdy z przedstawionych przedmiotów.

- 6 Przyjrzyj się mapie przedstawiającej ziemię polską w X–XI wieku. Następnie wykonaj polecenia.



Praca z mapą

- Oznacz dowolnym kolorem granice kraju odziedziczonego przez Bolesława Chrobrego.
- Zamaluj ziemię czasowo zajęte przez Bolesława Chrobrego.
- Podkreśl nazwę miejscowości, w której utworzono pierwsze polskie arcybiskupstwo.